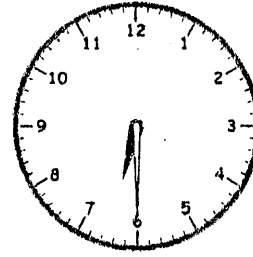
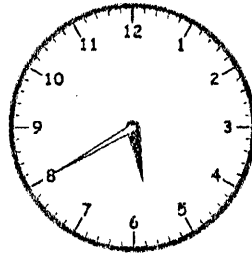
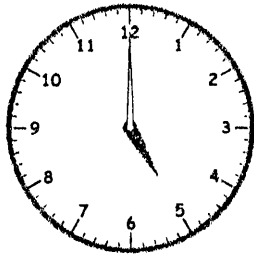


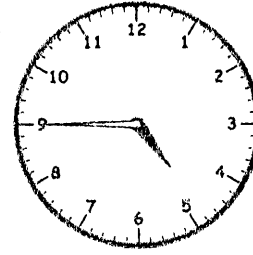
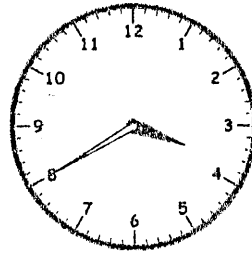

ねん くみ なまえ ( )

とけい

1 つぎの 時こくは なん時 なん分 でしょう。



( ) 時 ( ) 分 ( ) 時 ( ) 分 ( ) 時 ( ) 分

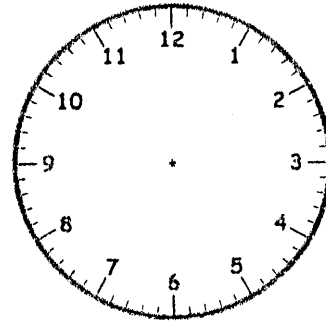
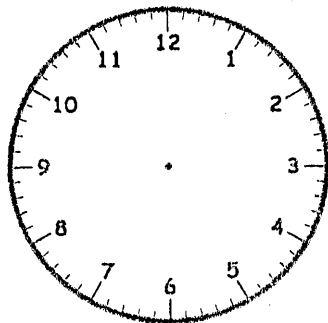


( ) 時 ( ) 分 ( ) 時 ( ) 分 ( ) 時 ( ) 分

2 はりを かきいれましょう。

(1) 4時

(2) 6時はん



1. 5時00分      5時40分      6時30分  
 3時8分(08分)    3時40分      4時45分