




ねん くみ なまえ ()


長 さ

くらべかた・長さのあらわしかた

1 下の ^{せん}線の 長さを はかりましょう。

		ア (cm	mm)
ア				
イ		イ (cm	mm)
	ウ 	ウ (cm	mm)

2 下の ア、イ、ウの目もりを よみましょう。



ア	cm	mm =	mm
イ	cm	mm =	mm
ウ	cm	mm =	mm

3 に あてはまる ^{かず}数を かきましょう。

(1) $1\text{ cm} = \text{ mm}$ (2) $5\text{ cm} = \text{ mm}$

(3) $10\text{ cm} = \text{ mm}$ (4) $3\text{ cm}2\text{ mm} = \text{ mm}$

(5) $89\text{ mm} = \text{ cm mm}$

4 () の 中の大きい ほうに ○を つけましょう。おなじときは 2つの 長さの あいだに =を かきましょう。

(1) (2 mm 2 cm) (2) (3 cm 4 mm 34mm)

(3) (81mm 8 cm) (4) (79mm 7 cm 9 mm)

(5) (5 cm 6 mm 6 cm 5 mm)