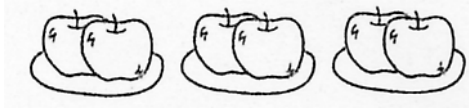


かけ算 (1)

1 えを見て れいのように () の中に あてはまる ことばや しきを かきましょう。

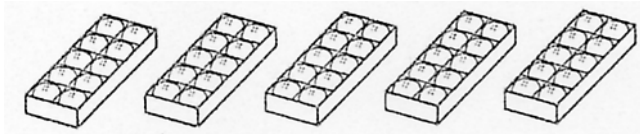
(れい)



(1さら) に (2こ) ずつ (3さら) 分

かけ算
(2 × 3)

(1)



() に () ずつ () 分

かけ算
()

(2)



() に () ずつ () 分



かけ算
()


(3)



() に () ずつ () 分

かけ算
()

2 下の ブロック  の 長さは 4cm です。  にあてはまる ^{かず}数を かきましょう。

1 こ分 

(1)  こ分   ばい  × 

(2)  こ分   ばい  × 

(3)  こ分   ばい 4 × 4

1. (1) (1はこ) に (10こ) ずつ (5はこ) 分 (10 × 5)

(2) (1ふくろ) に (3こ) ずつ (6ふくろ) 分 (3 × 6)

(3) (1だい) に (5人) ずつ (4だい) 分 (5 × 4)

2. (1) 2こ分 2ばい 4 × 2

(2) 3こ分 3ばい 4 × 3

(3) 4こ分 4ばい 4 × 4