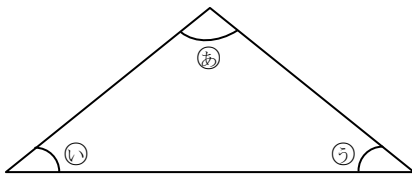


三角形と角
いろいろな三角形

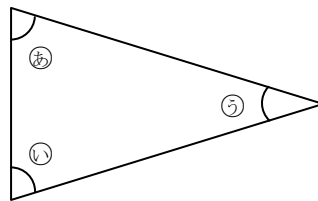
1 次の二等辺三角形を見て、同じ大きさの角を見つけましょう。

(1)



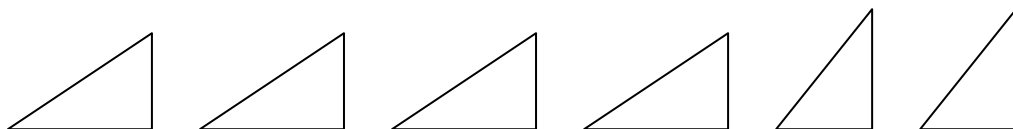
(と)

(2)



(と)

2 下のように、同じ大きさの三角じょうぎが何まいもあります。このうち2まいをえらんで自由に組み合わせて正三角形、二等辺三角形をつくりましょう。なお、二等辺三角形は2通りできます。



1 (1) ①と⑤ (2) ②と④

2

正三角形

二等辺三角形