

年 組 名前 ()

面積のはかり方と表し方

長方形と正方形の面積

- 1 次の長方形、正方形の面積を求めようと思います。ひつようだと思ふ部分の長さをはかって面積を求めましょう。


(1)



(式)

答え ()

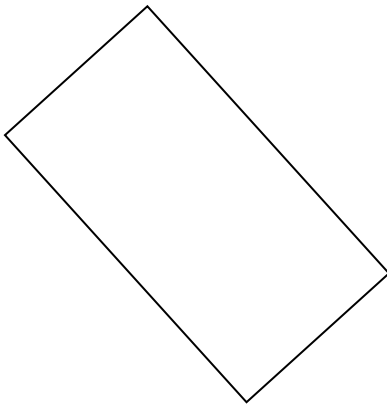
(2)



(式)

答え ()

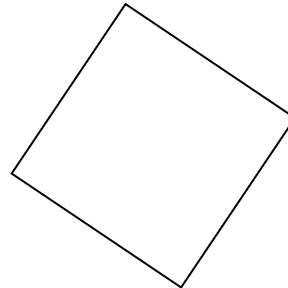
(3)



(式)

答え ()

(4)



(式)

答え ()