

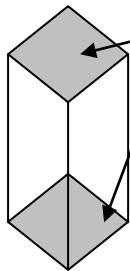
立体③

① 底面はどれですか。色をぬりましょう。また、立体の名前を () に書きましょう。

<例>

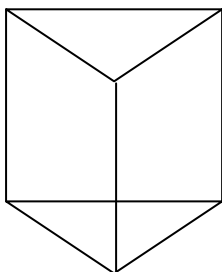
2つともぬろう

ア



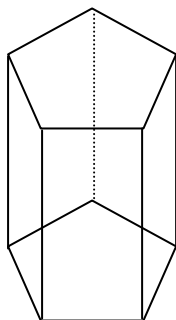
()

イ



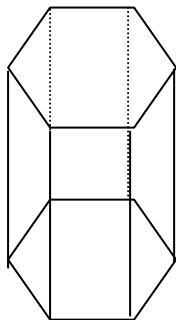
()

ウ



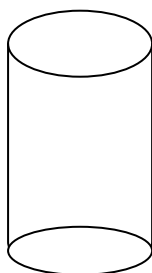
()

エ



()

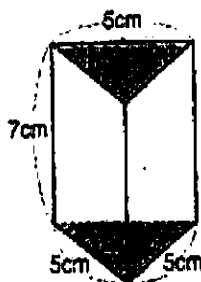
オ



()

② 次の立体の高さは、何 cm でしょうか。
 の部分が底面です。

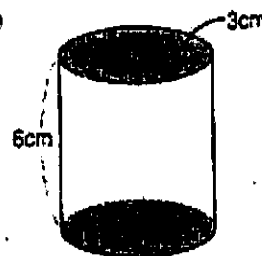
ア



答え

()

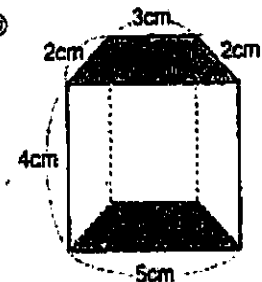
イ



答え

()

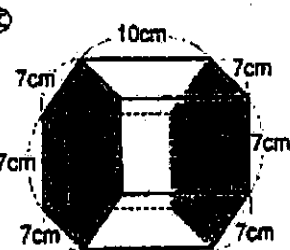
ウ



答え

()

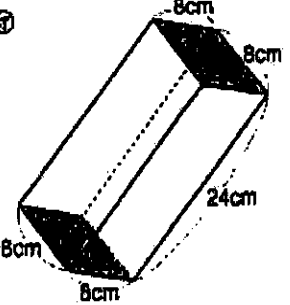
エ



答え

()

オ



答え

()