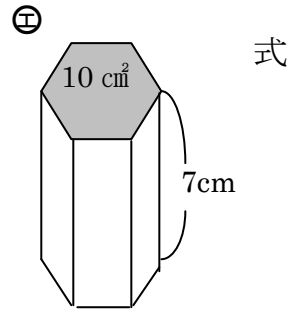


立体の体積

① つぎの () に合うことばを書きましょう。

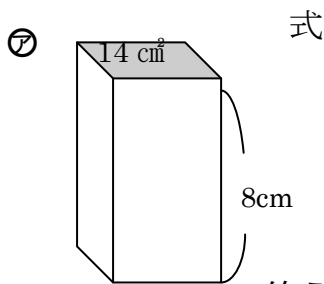
ア. 角柱の体積 = () × 高さ

イ. 円柱の体積 = 底面積 × ()

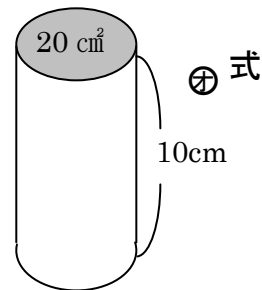


答え _____

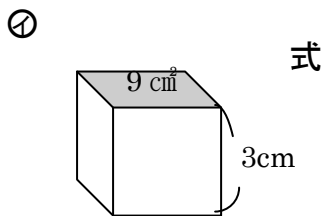
② つぎの立体の体積を求めましょう。



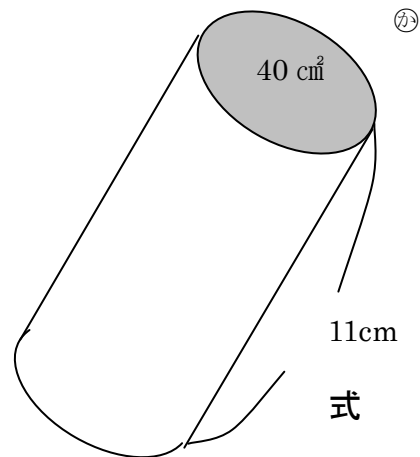
答え _____



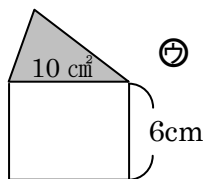
答え _____



答え _____



答え _____



答え _____

① ア 底面積 イ 高さ ② ア $14 \times 8 = 112$ 112 cm^3 イ $9 \times 3 = 27$ 27 cm^3 ウ $10 \times 6 = 60$ 60 cm^3
エ $10 \times 7 = 70$ 70 cm^3 オ $20 \times 10 = 200$ 200 cm^3 カ $40 \times 11 = 440$ 440 cm^3